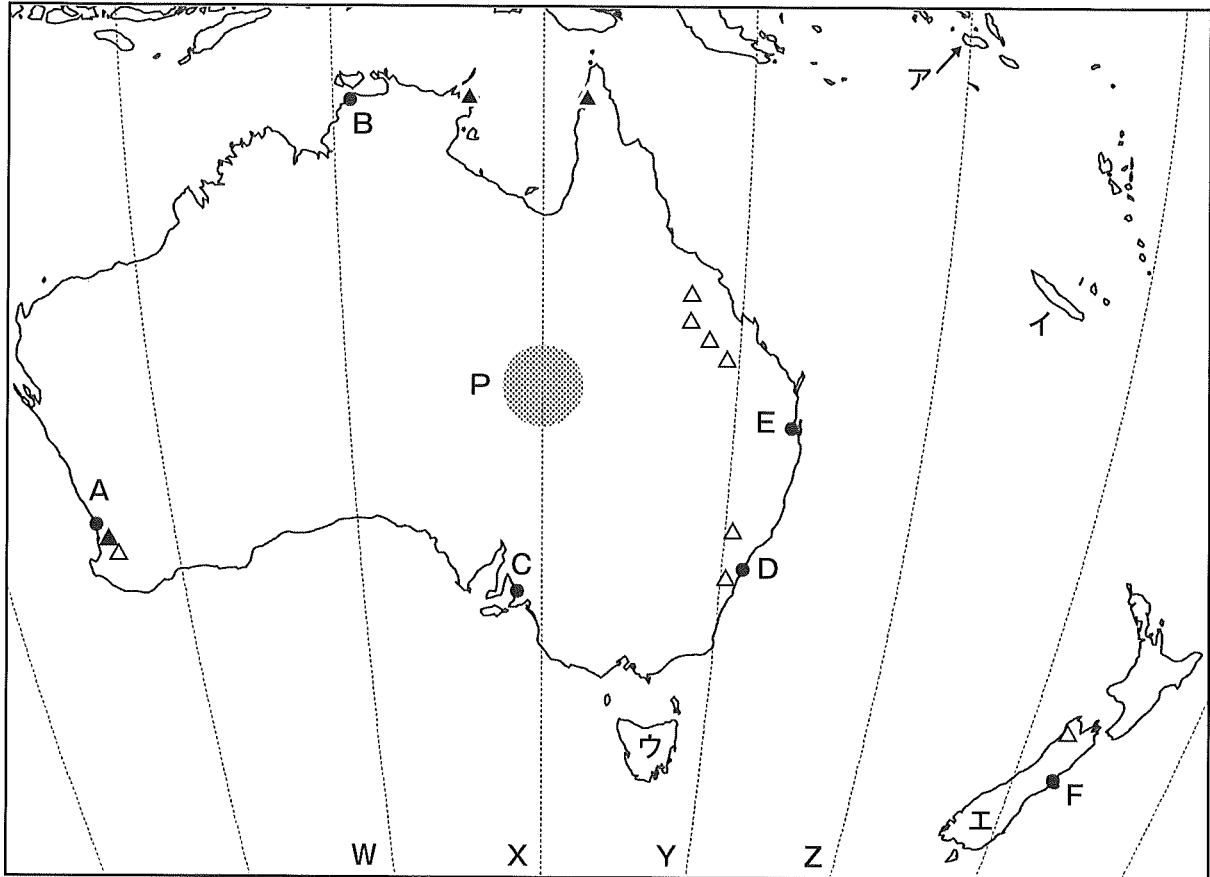


解答はすべて別紙の解答用紙に記入しなさい

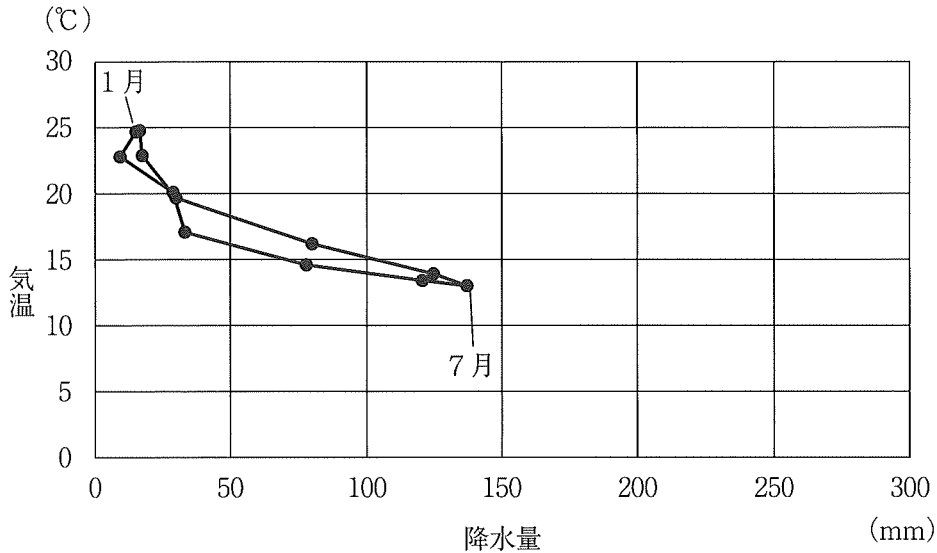
〔 I 〕 オセアニアに関する以下の設問に答え、最も適当な記号を1つ選んでマークしなさい。なお、地図中のW～Zは経線、A～Fは都市、Pは盆地、ア～エは島、▲と△は鉱産物の主要産地を示している。



(1) 地図中の経線W～Zのうち、東京の経度に最も近いものはどれか。

- a. W b. X c. Y d. Z

(2) 下の図は、地図中の都市A、都市B、都市E、都市Fのいずれかの月平均気温と月降水量を示したものである。この図に対応する都市はどれか。



『理科年表』2023年版による。

- a. 都市A b. 都市B c. 都市E d. 都市F
- (3) 地図中のP盆地とその周辺環境に関する説明として誤りを含むものはどれか。
- a. 盆地には大陸東部の降水による巨大な帯水層がある。
b. 多くの掘り抜き井戸が掘られている。
c. 盆地の大部分はBWあるいはBS気候である。
d. 盆地内は大規模な小麦生産地帯となっている。
- (4) 地図中の都市B、都市C、都市D、都市Eのうち、ヨーロッパ人の入植年代が最も早い地域に位置しているものはどれか。
- a. 都市B b. 都市C c. 都市D d. 都市E
- (5) 地図中のア島、イ島、ウ島、エ島に関する説明として正しいものはどれか。
- a. ア島を含む島嶼部はポリネシアに属している。
b. イ島はニッケル鉱の生産地域である。
c. ウ島の北岸はクック海峡に面している。
d. エ島の西側は東側に比べ牧羊が盛んな地域である。

(6) 地図中の▲と△において主に生産される鉱産物の組み合わせとして正しいものはどれか。

	▲	△
a	ウラン	石炭
b	ウラン	鉄鉱石
c	ボーキサイト	石炭
d	ボーキサイト	鉄鉱石

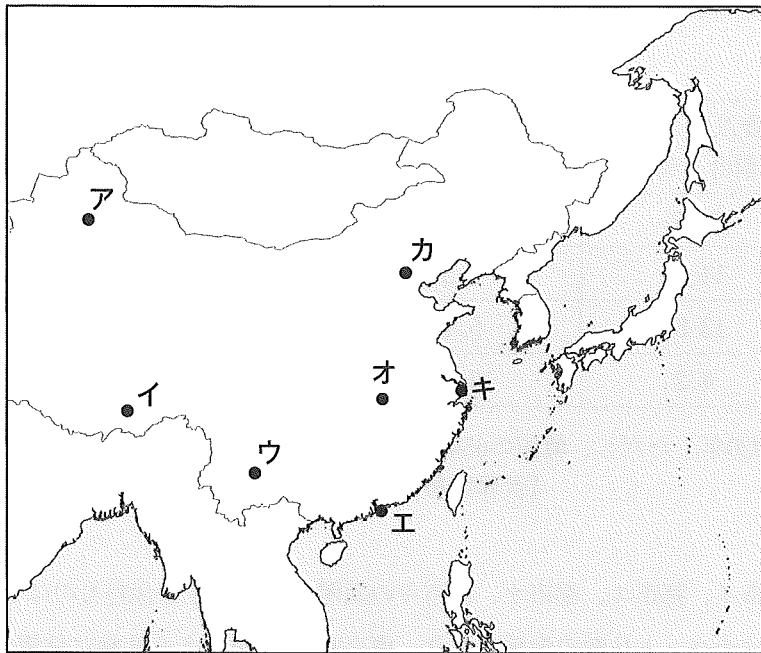
(7) オーストラリアとニュージーランドにおける先住民に関する説明として誤りを含むものはどれか。

- a. オーストラリアではアボリジニの保留地が設けられている。
- b. オーストラリアにおけるアボリジニの人口は減少を続けている。
- c. ニュージーランドのマオリの半数以上が都市部に居住している。
- d. ニュージーランドの議会ではマオリに割り当てられた議席がある。

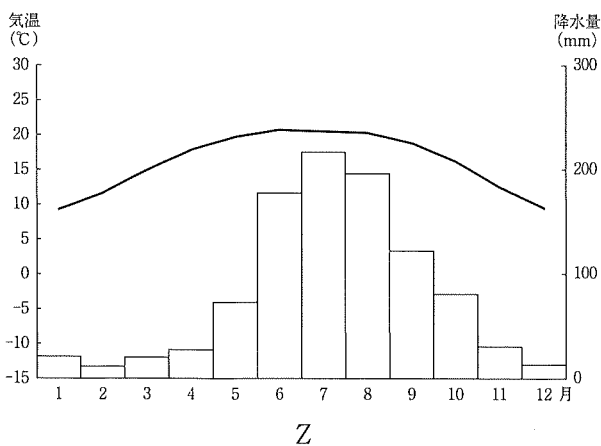
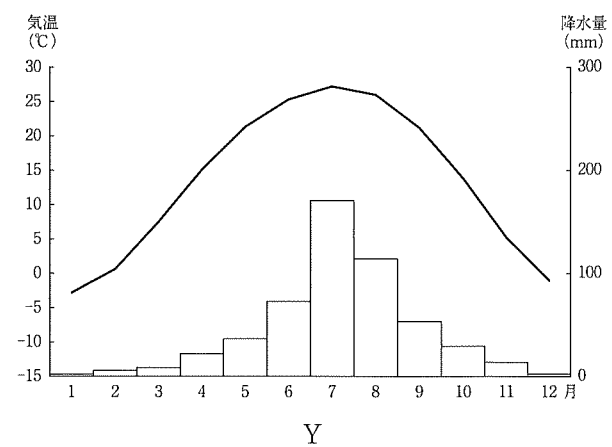
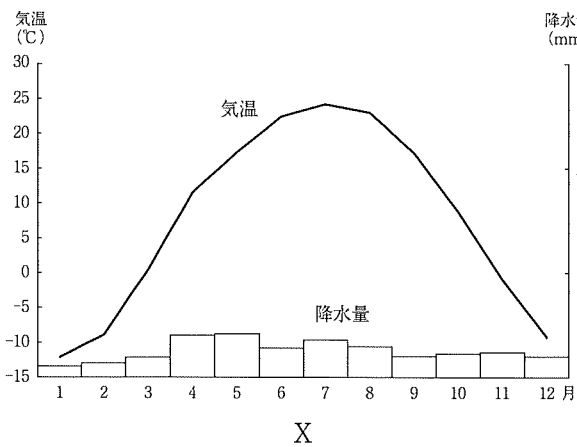
(8) オーストラリアとニュージーランドの国際関係に関する説明として誤りを含むものはどれか。

- a. 両国ともコモンウェルス・オブ・ネーションズ（イギリス連邦）に加盟している。
- b. 日本のワーキングホリデー制度はこの両国を相手国としてスタートした。
- c. オーストラリアの提唱によってアジア太平洋経済協力会議が結成された。
- d. ニュージーランドは貿易自由化を推進しており、外資規制はほぼ撤廃されている。

〔Ⅱ〕 東アジアに関する以下の設問に答え、最も適当な記号を1つ選んでマークしなさい。



(1) 下の図X～Zは、地図中の都市ア、都市ウ、都市カのいずれかの月平均気温と月降水量を示したものである。都市ア、都市ウ、都市カと図X～Zの組み合わせとして正しいものはどれか。



	都市ア	都市ウ	都市カ
a	X	Y	Z
b	X	Z	Y
c	Y	X	Z
d	Y	Z	X
e	Z	X	Y
f	Z	Y	X

『理科年表』2023年版による。

- (2) 下の表は、4つの国における65歳以上人口の割合、乳児死亡率、合計特殊出生率を示したものである。表中のa～dは、韓国、中国、日本、モンゴルのいずれかに対応している。中国はどれか。

国	65歳以上人口の割合 (%)	乳児死亡率 (‰)	合計特殊出生率
a	28.6	1.82	1.34
b	14.3	2.59	0.84
c	13.5	5.47	1.70
d	4.2	13.22	2.83

年次は2020年。ただし、韓国の65歳以上人口の割合のみ2018年。
『世界国勢図会』2022/23年版による。

- (3) 地図中の都市イ、都市エ、都市オ、都市キの説明として誤りを含むものはどれか。
- 都市イはチベット仏教の聖地であり、標高3000 mを超える高地に位置する。
 - 都市エはかつてイギリスの植民地支配を受けており、国際商業都市として発展した。
 - 都市オは湖北省の省都であり、鉄鋼コンビナートを中心に重工業が発達した。
 - 都市キはこの国の首都に次ぐ人口を擁し、日本の都市とも多くの航空便で結ばれている。
- (4) 台湾の説明として誤りを含むものはどれか。
- 山脈が南北に走り、最も標高が高い地点は日本のそれを超える。
 - 政治経済の中心となっている都市は島の南端付近に位置する。
 - 液晶パネルやパソコン、集積回路などの産業が発達している。
 - アジア太平洋経済協力会議や世界貿易機関に加盟している。
- (5) 東アジアの環境問題に関する説明として誤りを含むものはどれか。
- 中国の長江流域では、過度な農地開発や過伐採により砂漠化が進んでいる。
 - 中国沿岸部では、工業化や自動車の普及を背景にPM2.5による健康被害が生じている。
 - 黄砂は偏西風に乗って日本や韓国にも飛来し、人々の生活に影響が生じている。
 - 日本では高度経済成長期に四大公害病が社会問題となり、深刻な被害をもたらした。

- (6) 下の表は、中国の貿易相手国・地域の上位6位までについて、中国からの各国・地域への輸出货量および各国・地域から中国への輸入量の総額に占める比率（2020年）を示したものである。表中のa～dは、アメリカ合衆国、オーストラリア、韓国、ドイツのいずれかに対応している。韓国はどれか。

	中国からの輸出		中国への輸入	
第1位	a	17.4	台湾	9.8
第2位	香港	10.6	日本	8.5
第3位	日本	5.5	b	8.4
第4位	ベトナム	4.4	a	6.6
第5位	b	4.4	d	5.6
第6位	c	3.3	c	5.1

単位：％。『世界国勢図会』2022/23年版による。

- (7) 下の表は、5か国における国内の自動車販売台数に占める電気自動車（乗用車）の比率（2021年）と、GDPあたりCO₂排出量（1990年、2019年）を示したものである。表中のa～dは、アメリカ合衆国、中国、ドイツ、日本のいずれかに対応している。日本はどれか。

国	電気自動車の比率（％）	GDPあたりCO ₂ 排出量（kg）	
		1990年	2019年
a	26.0	0.40	0.18
イギリス	19.0	0.31	0.11
b	16.0	2.04	0.69
c	4.6	0.49	0.24
d	1.0	0.31	0.23

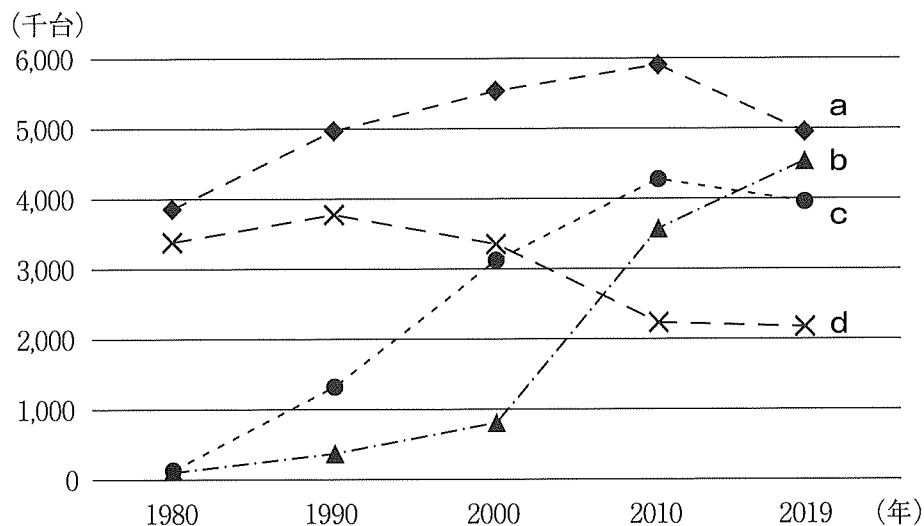
『世界国勢図会』2022/23年版および2021/22年版による。

- (8) 東アジアの宗教に関する説明として誤りを含むものはどれか。
- 韓国では儒教倫理が生活に浸透している一方、全人口に占めるキリスト教徒の比率が高い。
 - 台湾では道教や民間信仰の寺廟が各地にみられ、観光客が多く訪れている。
 - 中国では政府がプロテスタントやイスラム教などを五大宗教として公認している。
 - モンゴルでは民主化に伴い宗教が復興し、全人口に占めるイスラム教徒の比率が最も高い。

〔Ⅲ〕 以下の設問に答え、最も適当な記号を1つ選んでマークしなさい。

- (1) 在来産業・伝統産業に関する説明として誤りを含むものはどれか。
- a. イギリスでは産業革命後に家内制手工業に代わりマニュファクチュアが普及した。
 - b. ヨーロッパの皮革産業や時計産業は、高付加価値による利益をあげている。
 - c. 日本の織物産業と陶磁器産業は特定地域への集積がみられる。
 - d. 日本では伝統産業の職人とデザイナーとの共作の取り組みがみられる。
- (2) エレクトロニクス産業に関する説明として誤りを含むものはどれか。
- a. 半導体の生産拠点は空港の近接地域に設置される傾向が強い。
 - b. 半導体の生産部門に特化したファブレス企業が増加している。
 - c. インドではアメリカ合衆国との時差を利用したソフトウェア産業が発展している。
 - d. 韓国では半導体や薄型パネル、スマートフォン製造などの分野が成長した。
- (3) 国際的な工業生産や企業活動に関する説明として誤りを含むものはどれか。
- a. 先進国と途上国の最終製品どうしの貿易を垂直貿易と呼ぶ。
 - b. 1980年代には日本とアメリカ合衆国との間で自動車貿易に関わる貿易摩擦が起こった。
 - c. 多国籍企業内で工場どうしの役割分担の効率化をはかる国際分業がみられる。
 - d. 多国籍企業は進出先の政治や慣習などに合わせ現地化を進めてきた。
- (4) アジアの産業に関する説明として誤りを含むものはどれか。
- a. シンガポールには多国籍企業の地域統括会社が集まっている。
 - b. タイでは工業の分散をはかるため投資奨励地区が設定された。
 - c. 台湾では輸出額の約半分を精密機械を含む機械類が占める。
 - d. 日本の自動車産業では完成車を輸出するノックダウン輸出が一般的である。

- (5) 下の図は、4か国の自動車（完成車）生産台数の推移を示したものである。図中のa～dは、インド、韓国、ドイツ、フランスのいずれかに対応している。韓国はどれか。



『世界国勢図会』2021/22年版による。

- (6) 鉄鋼業に関する説明として正しいものはどれか。

- a. イギリスのミッドランド地域は炭田指向の鉄鋼の生産地として発展した。
- b. イタリアのタラントには鉄山指向の製鉄所が建設されている。
- c. 韓国の粗鋼生産量は日本の粗鋼生産量よりも多い。
- d. 中国の鉄鋼の輸入量と1人あたりの消費量はともに世界最大である。

- (7) 下の表は、4か国の知的財産使用料の貿易額を示したものである（2020年）。輸出額は知的財産使用料の受取額、輸入額は知的財産使用料の支払額を意味する。表中のa～dは、アメリカ合衆国、シンガポール、中国、日本のいずれかに対応している。中国はどれか。

国	輸出額 (百万ドル)	輸入額 (百万ドル)
a	113,779	42,984
b	43,038	28,218
c	8,673	15,345
d	8,554	37,782

『世界国勢図会』2022/23年版による。

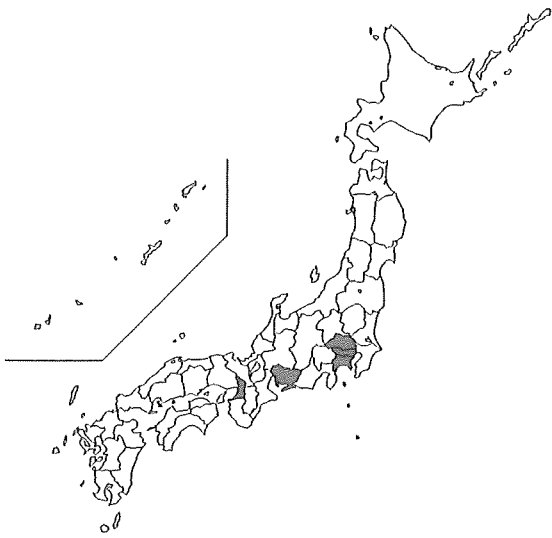
(8) 下の図は、日本における4種類の産業別製造品出荷額等(2020年)の上位5位までの都府県を示したものである。図のa~dは、印刷・印刷関連業、繊維工業、パルプ・紙・紙加工品、輸送用機械器具のいずれかに対応している。繊維工業はどれか。



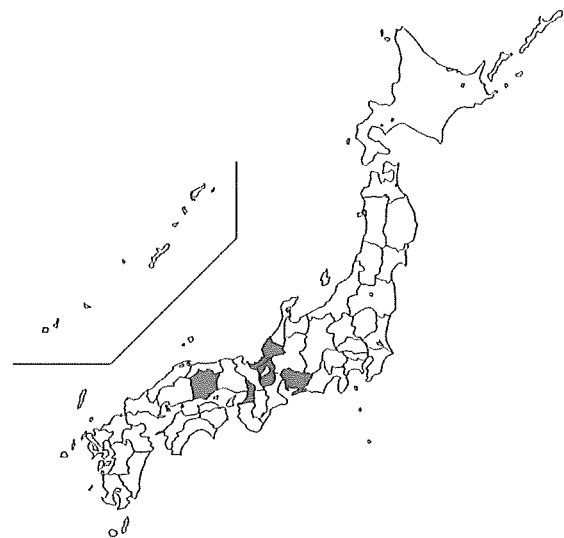
a



b



c



d

『日本国勢図会』2023/24年版による。

〔IV〕 以下の設問に答え、最も適当な記号を1つ選んでマークしなさい。

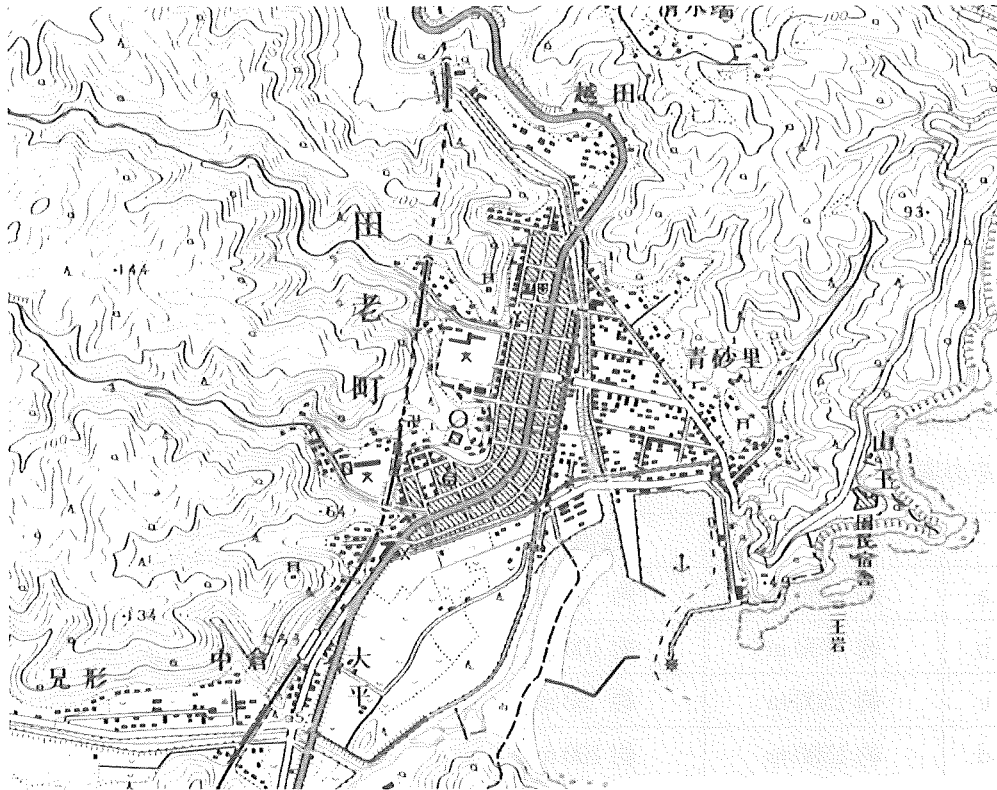


図1

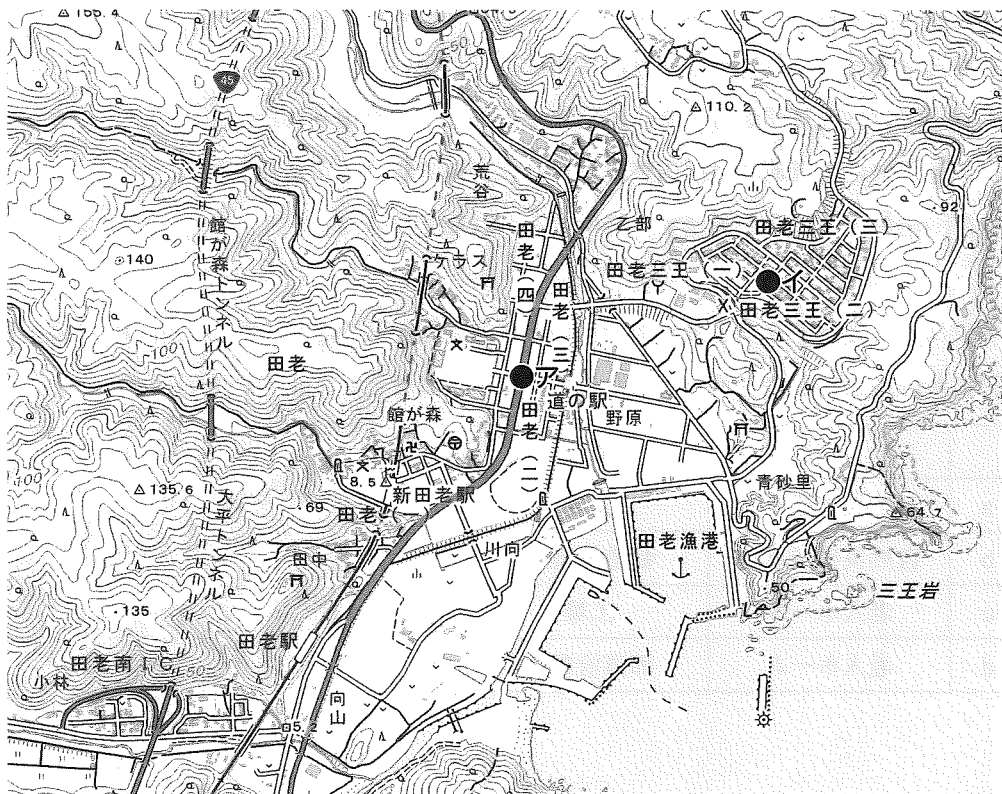


図2

- (1) 図1は国土地理院発行の2万5千分の1地形図「田老」(1983年修正測量、原寸、一部改変)、図2は国土地理院発行の2万5千分の1地形図「田老」(2022年調製、原寸、一部改変)の一部である。

図1からは判読できない地形はどれか。

- a. 海食崖 b. 砂州 c. 干潟 d. V字谷

- (2) 図1のみにみられる地図記号として正しいものはどれか。

- a. 消防署 b. 水田 c. 灯台 d. 病院

- (3) 図2の地点アから地点イまでの地図上の長さは約3cmである。地点アから地点イまでのおおよその直線距離と標高差の組み合わせとして正しいものはどれか。

	直線距離	標高差
a	約 750 m	約 50 m
b	約 750 m	約 100 m
c	約 1500 m	約 50 m
d	約 1500 m	約 100 m

- (4) 図1と図2を比較して読み取れることとして誤りを含むものはどれか。

- a. 寺院や神社のおおよその位置に変化はみられない。
 b. 丘陵では区画整理が行われ、住宅地や交番などが整備された。
 c. 国道沿いの市街地では区画整理が行われ、道の駅などが建設された。
 d. 防潮堤の下を道路が通過する場所はみられなくなった。

- (5) 下の表は、2万5千分の1地形図で用いられる地図記号の名称を示したものである。2010年代以降に新設されたものと廃止されたものの組み合わせとして正しいものはどれか。

	新設	廃止
a	自然災害伝承碑	工場
b	自然災害伝承碑	都道府県庁
c	老人ホーム	工場
d	老人ホーム	都道府県庁

- (6) 地理情報の用語に関する説明として誤りを含むものはどれか。
- a. GNSS は、人工衛星の電波を利用し、正確な位置を把握するしくみをいう。
 - b. 地図は一般図と主題図に大別でき、一般図には都市計画図がある。
 - c. 統計地図は絶対分布図と相対分布図に大別でき、絶対分布図には流線図がある。
 - d. リモートセンシングは、人工衛星などにより地球上の現象を探る技術をいう。
- (7) 地図の歴史に関する説明のうち、最も年代の古いものはどれか。
- a. イドリーシーが世界図を作成した。
 - b. 伊能忠敬らが日本の実測図を完成させた。
 - c. マルティン＝ベハイムが地球儀を製作した。
 - d. メルカトルが正角円筒図法を考案した。
- (8) オーストラリアのシドニーからアメリカ合衆国のサンフランシスコまで、飛行機の直行便で約15時間かかる。シドニー（グリニッジ標準時+10時間）を2月1日午前9時に出発した便は、サンフランシスコ（グリニッジ標準時－8時間）にいつ到着するか。なお、この時期のオーストラリアではサマータイムを実施している。
- a. 2月1日午前5時 b. 2月1日午前6時 c. 2月1日午前7時
 - d. 2月2日午前5時 e. 2月2日午前6時 f. 2月2日午前7時

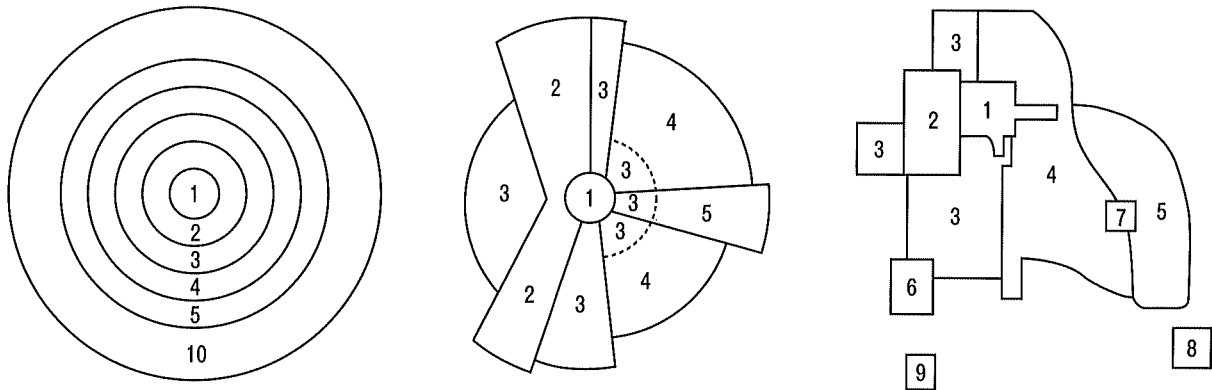
〔V〕以下の設問に答え、最も適当な記号を1つ選んでマークしなさい。

- (1) 村落に関する説明として正しいものはどれか。
- a. ドイツやポーランドでみられる林地村は円村の一形態である。
 - b. タウンシップ制の1セクションは6マイル四方を基準とした。
 - c. 奈良盆地では条里制に基づく散村が発達した。
 - d. 濃尾平野では堤防で集落を囲む輪中が発達した。
- (2) 都市に関する説明として誤りを含むものはどれか。
- a. 市街地の拡大によって隣接する複数の都市が連続し、1つの都市域を形成したものをメガロポリスと呼ぶ。
 - b. 大都市周辺部において、住宅・工場などの施設が無秩序に広がる現象をスプロール現象と呼ぶ。
 - c. 中心都市への通勤者が多く居住する郊外の都市をベッドタウンと呼ぶ。
 - d. 多国籍企業や国際金融市場が集中し、世界の政治・経済と密接に結びついた都市を世界都市と呼ぶ。
- (3) 下の表は、4か国について都市人口割合(%)の推移を示したものである。表中のa～dは、アルジェリア、オーストラリア、日本、ポーランドのいずれかに対応している。ポーランドはどれか。

	1980年	2000年	2020年
a	85.6	84.2	86.2
b	76.2	78.6	91.8
c	58.1	61.7	60.0
d	43.5	59.9	73.7

『世界国勢図会』2022/23年版による。

(4) 下の図は、都市の内部構造を異なる3つの形で示したモデル図である。図中の数字1～10は地区類型を示しており、3つの図に共通する。地区類型1、2、5は、それぞれCBD、卸売業・軽工業地区、高級住宅地区に対応している。その組み合わせとして正しいものはどれか。



	地区類型 1	地区類型 2	地区類型 5
a	CBD	卸売業・軽工業地区	高級住宅地区
b	CBD	高級住宅地区	卸売業・軽工業地区
c	卸売業・軽工業地区	CBD	高級住宅地区
d	卸売業・軽工業地区	高級住宅地区	CBD
e	高級住宅地区	CBD	卸売業・軽工業地区
f	高級住宅地区	卸売業・軽工業地区	CBD

(5) 下の表は、4つの歴史的集落形態ごとに、3つの例を示したものである。表中のa～dは、寺内町、宿場町、城下町、門前町のいずれかに対応している。寺内町はどれか。

a	宇都宮（栃木県）、彦根（滋賀県）、萩（山口県）
b	吉崎（福井県）、山科（京都府）、富田林（大阪府）
c	大内（福島県）、奈良井（長野県）、赤坂（愛知県）
d	長野（長野県）、伊勢（三重県）、琴平（香川県）

(6) 日本の国土面積に占める過疎地域の面積の割合に最も近いものはどれか。
 a. 20% b. 40% c. 60% d. 80%

- (7) 都市の再開発に関する説明として誤りを含むものはどれか。
- a. シンガポールのチャイナタウンでは歴史的景観を保全した再開発がみられる。
 - b. パリのラ・デファンスでは旧市街のインナーシティが再開発された。
 - c. ロンドンのドックランズではかつての港湾地区が再開発された。
 - d. 横浜のみなとみらいでは再開発に港湾倉庫などが活用されている。
- (8) 都市環境の問題やその対策に関する説明として誤りを含むものはどれか。
- a. ストラスブールでは都市内交通を路面電車に転換し、街のにぎわいを取り戻した。
 - b. フライブルクでは車社会からの脱却を目的としてパークアンドライドを導入している。
 - c. マニラではスラム地区に対する環境対策の一環として地下鉄が運行されている。
 - d. メキシコシティでは排ガス対策として自動車の市街地乗り入れ制限を実施している。