

III 地理問題

(I) 自然環境と農業に関する下の問い(問1～問3)に答えなさい。

問1 ケッペンの気候区分において、冷帯(亜寒帯)気候は、ほぼ北半球にのみ分布し、さらに冷帯冬季少雨気候(Dw)はシベリア付近にのみ分布する。  
以上2点の理由を、次の図1の世界地図を参考に説明しなさい(150字程度)。

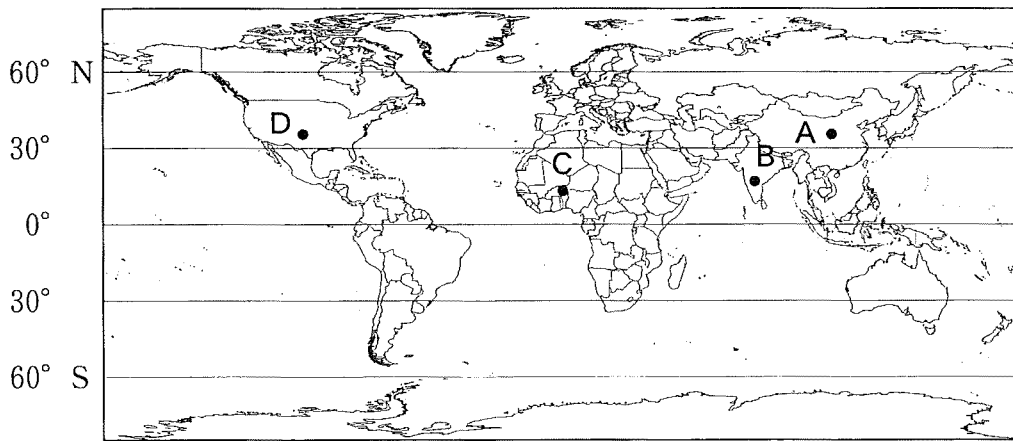


図1

問 2 図 1 の黒い円で示された地域 A～C に共通する気候および農業の特徴を、少なくとも一つの穀物名を挙げて述べなさい(100 字程度)。

問 3 図 1 の黒い円で示された地域 D の<sup>かんがい</sup>灌漑農業の特徴と問題点について述べなさい(100 字程度)。

(II) 漁業に関する下の問い(問1～問3)に答えなさい。

問1 太平洋北西部の日本近海における好漁場の位置とその要因について、自然環境および経済的・文化的側面から述べなさい。ただし、下の図2(日本の部分図)にある範囲の漁場を対象とし、瀬戸内海の事例を除いて解答すること(200字程度)。

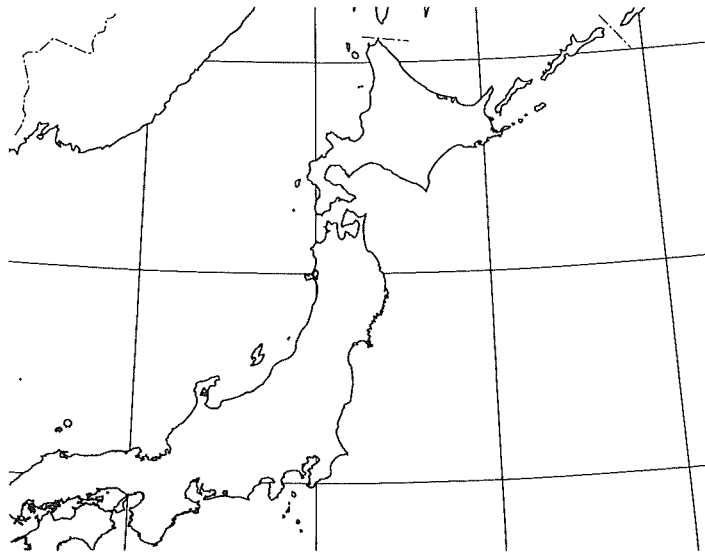


図2

問 2 下の図 3 は、世界の漁業・養殖業生産量の推移を示したものである。この図から読み取ることのできる、漁業の種別ごとの傾向と背景について述べなさい(200 字程度)。

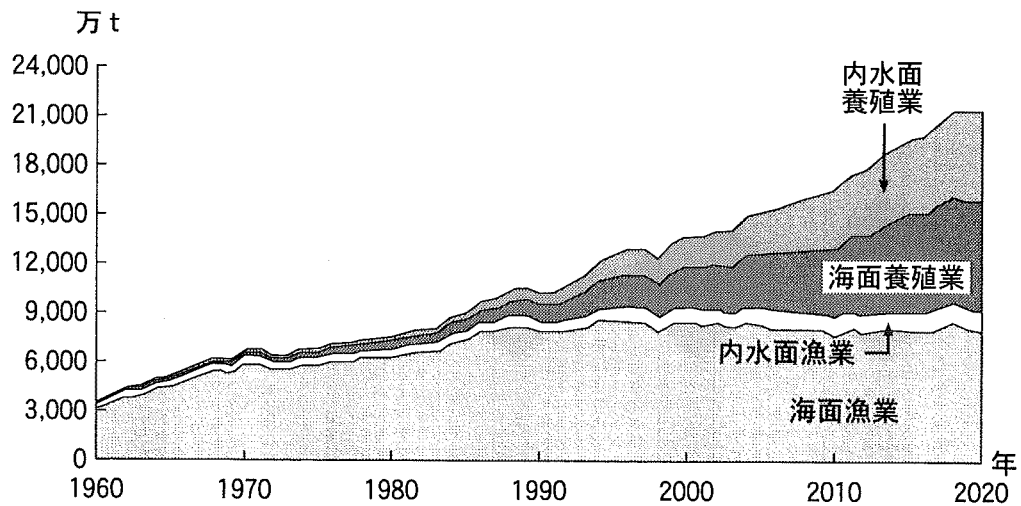


図 3

『令和 3 年度 水産白書』より作成(一部改変)。

問 3 東日本大震災後の被災地の漁業に関わる復興の要点について、多面的な視点から述べなさい(150 字程度)。